



INVESTICE DO ROZVOJE VZDĚLÁVÁNÍ

VY_32_INOVACE_06_Sčítání s přechodem desítky v oboru čísel do 20_40

Autor: Emilie Elšíková

Škola: Základní škola Slušovice, okres Zlín, příspěvková organizace
Název projektu: Zkvalitnění ICT ve slušovské škole



Číslo projektu: CZ.1.07/1.4.00/21.2400


Anotace

- Pracovní listy jsou určeny pro opakování a upevňování sčítání s přechodem přes základ; +5, 5+, +4, 4+, +3, 3+.
- Materiál je určen pro předmět Matematika ve 2. ročníku, vzdělávací oblast Matematika a její aplikace a je součástí tématického okruhu Číslo a proměnná.
- Materiál vznikl ze zápisů autora, který vycházel z učebnice: Ing. Jana Potůčková, RNDr. Vladimír Potůček: Matematika pro 2. ročník základní školy, Studio 1+1, Brno 2008

1. úkol

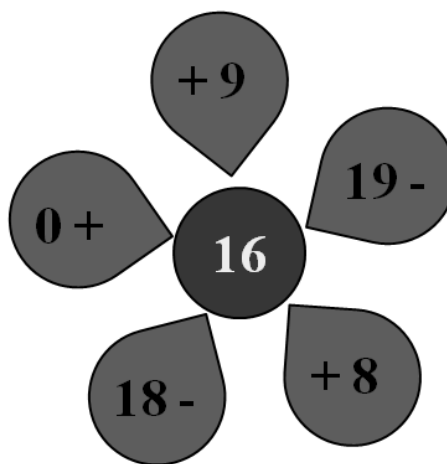
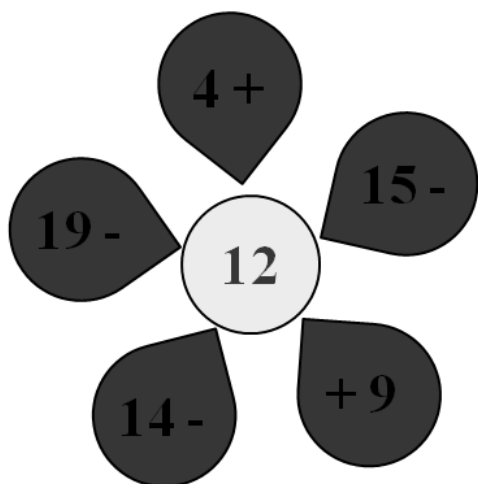
Sestav slovní úlohu k obrázkům a napiš oba příklady.

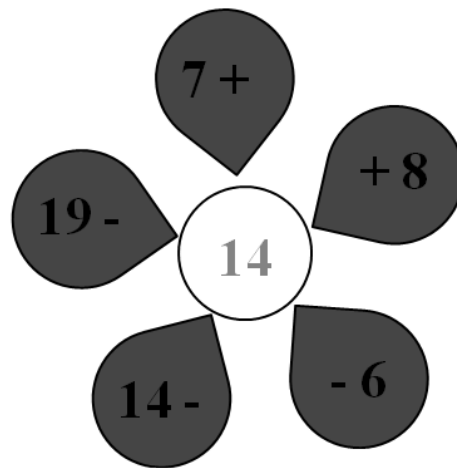
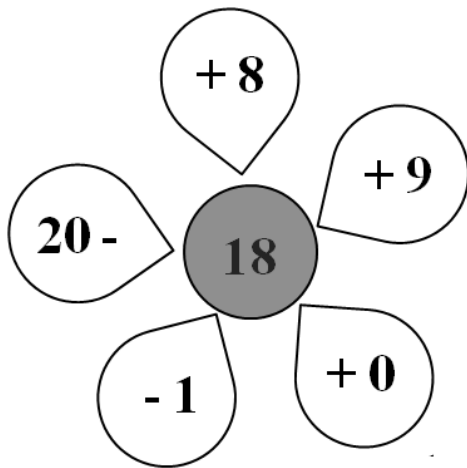




2. úkol



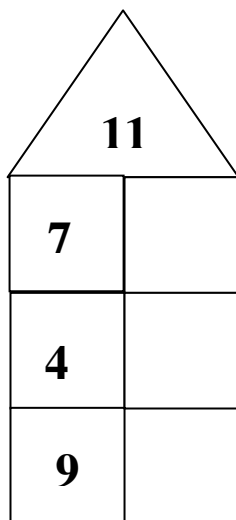
Vypočítej květinčky.





3. úkol

Která čísla v patře bydlí?



4. úkol

Doplň <, >, =.

$8 + 0$	<input type="text"/>	12	$9 + 9$	<input type="text"/>	16	$6 + 8$	<input type="text"/>	15
$9 + 6$	<input type="text"/>	10	$4 + 8$	<input type="text"/>	12	$0 + 9$	<input type="text"/>	9
$7 + 8$	<input type="text"/>	15	$4 + 9$	<input type="text"/>	3	$8 + 8$	<input type="text"/>	12
$3 + 9$	<input type="text"/>	19	$2 + 9$	<input type="text"/>	11	$9 + 3$	<input type="text"/>	15

5. úkol

Vyřeš slovní úkol.

Ivanka měla 9 pohlednic ptáků a 6 pohlednic psů.

Kolik měla pohlednic celkem?

V: _____

Odpověď: _____

Zdroje

klipart : office. microsoft. com

Řešení

1. úkol

V lese bylo 8 jehličnatých a 5 listnatých stromů. Kolik bylo celkem v lese stromů?

$$8 + 5 = 13$$

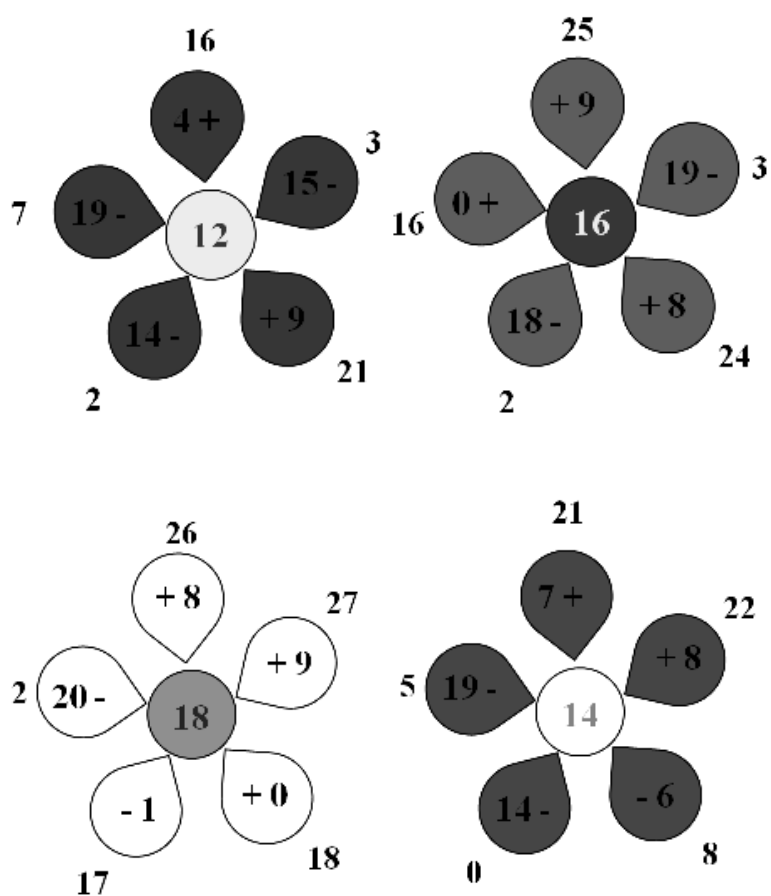
$$5 + 8 = 13$$

Dědeček přinesl domů 5 hrušek a 6 jablek. Kolik kusů ovoce přinesl?

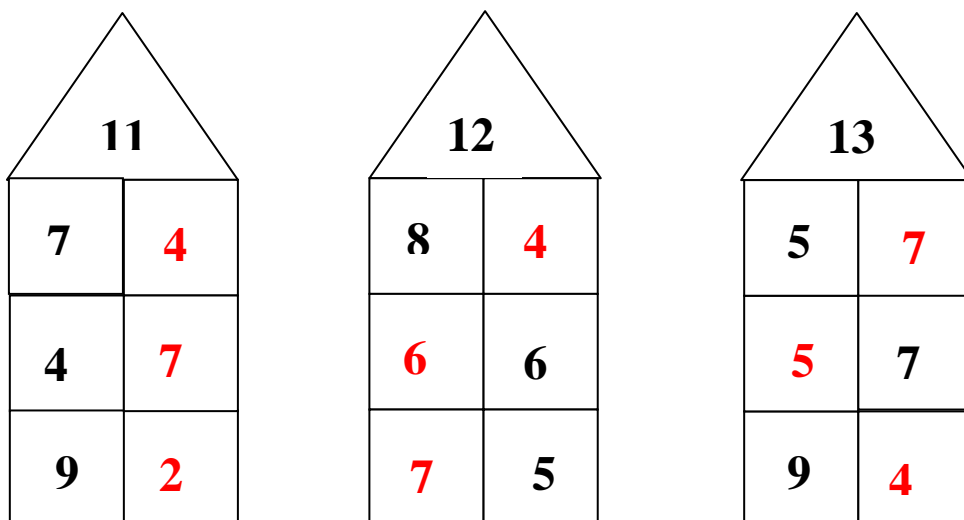
$$5 + 6 = 11$$

$$6 + 5 = 11$$

2. úkol



3. úkol



4. úkol

$8 + 0$	$<$	12	$9 + 9$	$>$	16	$6 + 8$	$<$	15
$9 + 6$	$>$	10	$4 + 8$	$=$	12	$0 + 9$	$=$	9
$7 + 8$	$=$	15	$4 + 9$	$>$	3	$8 + 8$	$>$	12
$3 + 9$	$<$	19	$2 + 9$	$=$	11	$9 + 3$	$<$	15

5. úkol

$$9 + 6 = 15$$

Ivanka měla celkem 15 pohlednic.