



INVESTICE DO ROZVOJE VZDĚLÁVÁNÍ

autor: Helena Nováková
ZŠ Slušovice, okres Zlín, příspěvková organizace

VY_32_INOVACE_10_Oblasti a státy Evropy_44

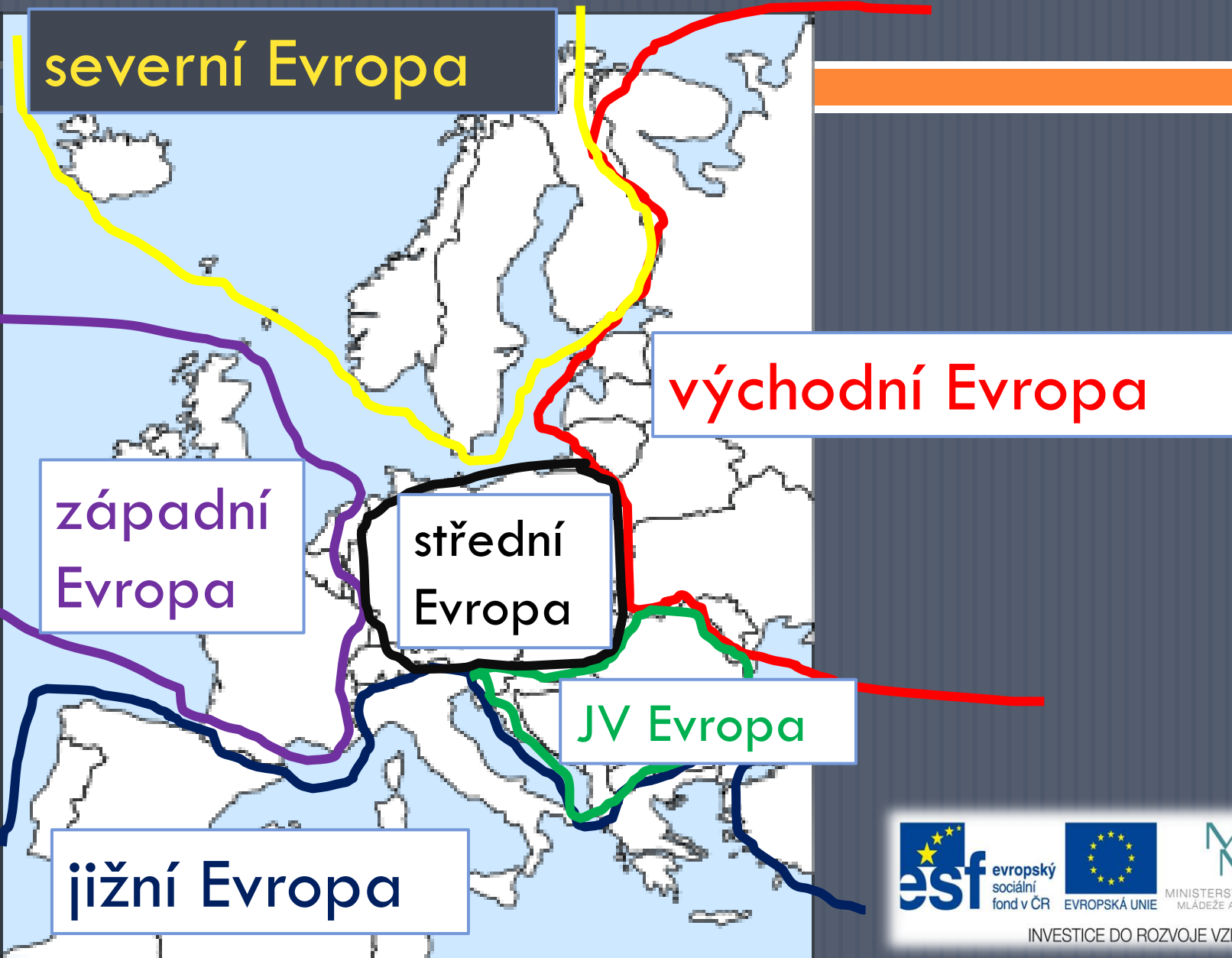
Číslo projektu: CZ.1.07/1.4.00/21.2400

OBLASTI A STÁTY EVROPY

Anotace

- Materiál je určen pro žáky sedmého ročníku, předmětu zeměpis, v rámci probíraného tematického celku Regiony světa – světadíly Evropa
- Žáci mají možnost s pomocí interaktivní tabule a Atlasu vyhledávat aktivní formou jednotlivé oblasti Evropy.

Podle geografických, historických, kulturních a ekonomických hledisek členíme Evropu do šesti oblastí:



východní Evropa

Urči státy, které podle tebe patří do východní Evropy

- Rusko, Ukrajina, Moldavsko, Bělorusko, Estonsko, Lotyšsko, Litva



severní Evropa

Urči státy, které podle tebe patří do severní Evropy

- Finsko, Švédsko, Norsko, Dánsko, Island



1. - _____
2. - _____
3. - _____
4. - _____
5. - _____

jižní Evropa

Urči státy, které podle tebe patří do jižní Evropy

Portugalsko, Španělsko, Andorra, Monako, Itálie, San Marino, Malta, Řecko, Kypr

.....

• 40°s.š. a 8°z.d.

.....

• 40°s.š. a 5°z.d.

.....

• 42,5°s.š. a 1,5°v.d.

.....

• 43,5°s.š. a 7°v.d.

.....

• 45°s.š. a 10°v.d.

.....

• 44°s.š. a 13°v.d.

.....

• 36°s.š. a 15°v.d.

.....











• 40°s.š. a 22°v.d.

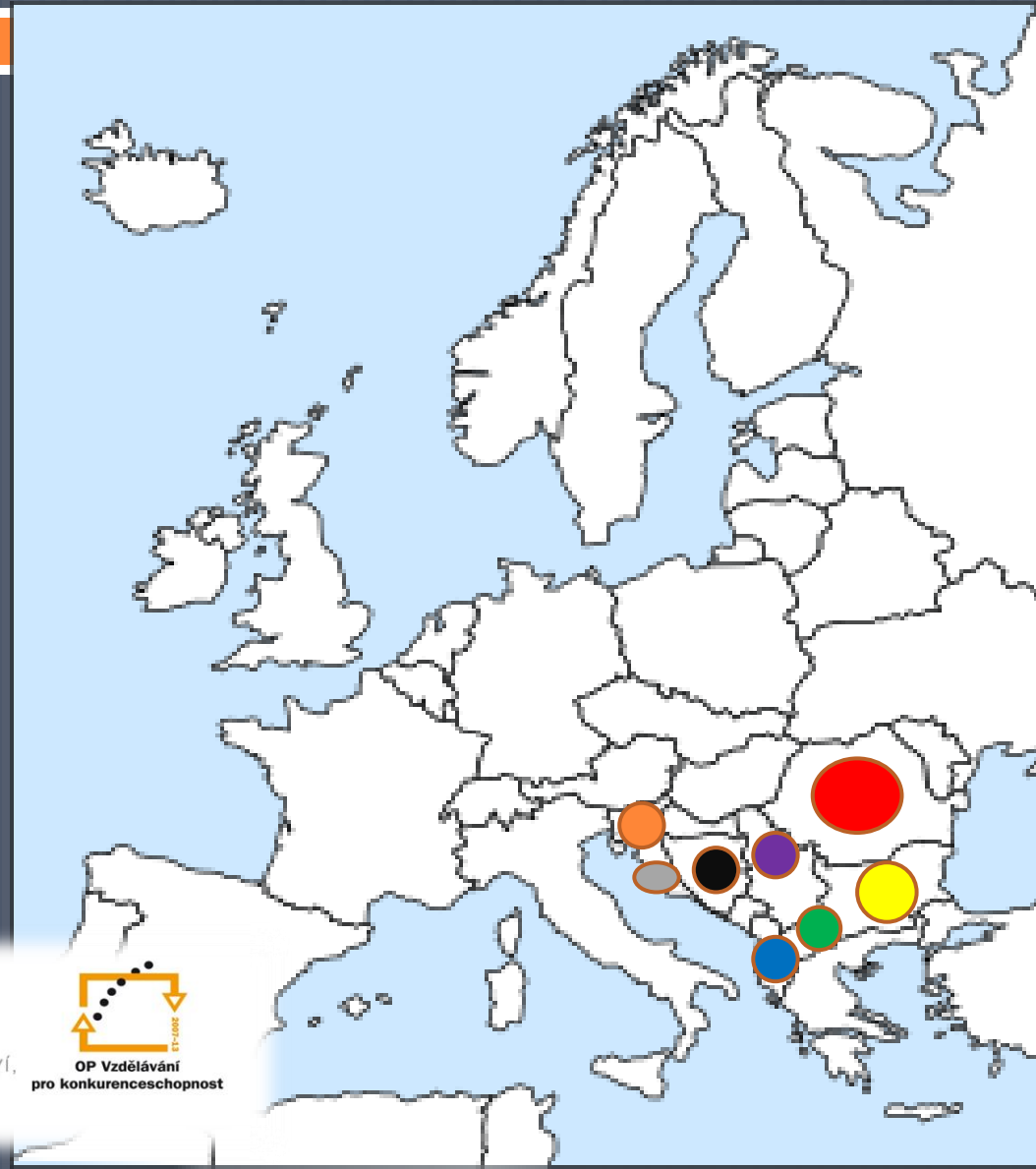
.....

• 35°s.š. a 33°v.d.

jihovýchodní Evropa

Podle atlasu přiřad' barvu k uvedeným státům

- Rumunsko, 
- Bulharsko, 
- Albánie, 
- Makedonie, 
- Srbsko, 
- Kosovo, 
- Černá Hora, 
- Bosna a Hercegovina, 
- Chorvatsko, 
- Slovinsko 



západní Evropa

Urči státy podle přesmyček, které podle tebe patří do západní Evropy

KÁVEL TIBRÁNIE

SRIKO

CIFRANE

EGLIBE

BRUMLOSCEUK

MOSKOZINEZ



evropský
sociální
fond v ČR



EVROPSKÁ UNIE



MINISTERSTVO ŠKOLSTVÍ,
MLÁDEŽE A TĚLOVÝCHOVY



OP Vzdělávání
pro konkurenceschopnost

INVESTICE DO ROZVOJE VZDĚLÁVÁNÍ



střední Evropa

Urči státy, které podle tebe patří do střední Evropy

- Německo, Rakousko, Švýcarsko, Lichtenštejnsko, Česká republika, Slovensko, Polsko, Maďarsko

N _____
R _____
Š _____
L _____
Č _____ R _____
S _____
P _____
M _____



INVESTICE DO ROZVOJE VZDĚLÁVÁNÍ

- k evropským státům řadíme i Rusko, které je euroasijským státem



Zdroje obrázků:

- <http://office.microsoft.com>
- Bubba Evropa Outline
klipart. *Www.clker.com* [online]. 2007 [cit. 2013-04-03]. Dostupné z:
http://www.clker.com/cliparts/2/f/a/e/1197098819441524037bubba_europe_outline.svg.med.png



INVESTICE DO ROZVOJE VZDĚLÁVÁNÍ



INVESTICE DO ROZVOJE VZDĚLÁVÁNÍ

KONEC