



evropský  
sociální  
fond v ČR



EVROPSKÁ UNIE



MINISTERSTVO ŠKOLSTVÍ,  
MLÁDEŽE A TĚLOVÝCHOVY



OP Vzdělávání  
pro konkurenceschopnost

INVESTICE DO ROZVOJE VZDĚLÁVÁNÍ

# Evropa – Rakousko

VY\_32\_INOVACE\_15\_Evropa-Rakousko\_44

Číslo projektu: CZ.1.07/1.4.00/21.2400

autor: Helena Nováková

ZŠ Slušovice, okres Zlín, příspěvková organizace

Zkvalitnění ICT ve slušovské škole

# Anotace

Digitální učební materiál je určen pro žáky sedmého ročníku předmětu zeměpis v rámci probíraného tematického celku Regiony světa – světadíly Evropa. S pomocí interaktivní tabule žáci aktivně pracují v hodině a samostatně vyhledávají potřebné informace ke státu Rakousko. Na tabuli pak také přímo dohledané informace zaznamenávají.

# Rakousko

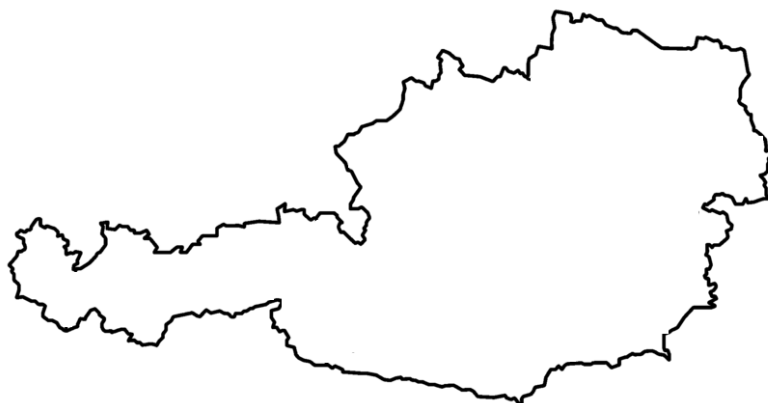
**Úkol:** Spočítejte a doplňte

- rozloha: .....km<sup>2</sup>  
(32 756 + 51 115)
- počet obyvatel: .....
- (12 579 364 – 4 174 351)
- hlavní město: \_\_\_\_\_
- státní zřízení: s \_\_\_\_\_ r \_\_\_\_\_


**Poloha a povrch (doplňte)**

- více než polovina země je h \_\_\_\_\_ (Alpy, Vysoké a Nízké Taury, Malé Karpaty apod.)
- nejvyšší vrchol: \_\_\_\_\_ (3 797 m n. m.)

**Úkol:** Vybarvi mapu a zakresli do ní hlavní město a nejvýznamnější pojmy



**Vodstvo (doplňte)**

- největší část je odvodňována D \_\_\_\_\_
- další významné řeky: např. D \_\_\_\_\_, M \_\_\_\_\_, L \_\_\_\_\_, I \_\_\_\_\_, S \_\_\_\_\_
- nejvýznamnější jezera: N....., A.....

**Hospodářství (vyberte, případně doplňte správnou odpověď)**

- patří mezi nejchudší X nebohatší země
- průmysl: hlavně strojírenský a chemický průmysl
- zemědělství: hlavně v úrodné nížině Dolního Rakouska
  - o pěstuje se hlavně víno, obiloviny, zelenina...
  - o chov .....



## Obyvatelstvo

- národnost: R \_\_\_\_\_ É (94%)
- náboženství: hlavně K \_\_\_\_\_ I
- významná města: L....., S....., G....., I.....

## Politický systém

- Rakousko je rozděleno do \_\_ spolkových zemí

**Úkol:** Do slepé mapy doplňte názvy jednotlivých spolkových zemí



**Úkol:** Vybarvěte, co k sobě patří

Wolfgang Amadeus Mozart

jedno z nejznámějších turistických  
a sportovních středisek

významný malíř

Gustav Klimt

měna

zábavní park ve Vídni

Prátr

euro




hudební skladatel



# Rakousko - řešení

**Úkol:** Spočítejte a doplňte

- rozloha: **83 871 km<sup>2</sup>**  
(32 756 + 51 115)
- počet obyvatel: **8 405 013**  
(12 579 364 – 4 174 351)
- hlavní město: **VÍDEŇ**
- státní zřízení: spolková republika



## Poloha a povrch


- více než polovina země je **hornatá** (Alpy, Vysoké a Nízké Taury, Malé Karpaty apod.)
- nejvyšší vrchol: **GROSSGLOCKNER** (3 797 m n. m.)

## Vodstvo

- největší část je odvodňována **DUNAJEM**
- další významné řeky: např. **DRÁVA, MUR, LECH, INN, SALZACH**
- nejvýznamnější jezera: NEZIDERSKÉ, ATTERSKÉ

## Hospodářství (vyberte, případně doplňte správnou odpověď)

- patří mezi **nejchudší X nebohatší** země
- průmysl: hlavně strojírenský a chemický průmysl
- zemědělství: hlavně v úrodné nížině Dolního Rakouska
  - o pěstuje se hlavně víno, obiloviny, zelenina...
  - o **chov prasat a dobytka**



## Obyvatelstvo

- národnost: **RAKUŠANÉ** (94%)
- náboženství: hlavně **KATOLÍCI**
- významná města: LINZ, SALCBURK, GRAZ, INNSBRUCK

## Politický systém

- Rakousko je rozděleno do 9 spolkových zemí

**Úkol:** Do slepé mapy doplňte názvy jednotlivých spolkových zemí

- Vídeň, Horní a Dolní Rakousy, Burgenlad, Štýrsko, Korutany, Salcbursko, Tyrolsko, Vorarlbersko



**Úkol:** Vybarvěte, co k sobě patří

Wolfgang Amadeus Mozart

jedno z nejznámějších turistických  
a sportovních středisek

významný malíř

Gustav Klimt

měna

zábavní park ve Vídni

Prátr

euro

hudební skladatel



Zdroje obrázků:

- <http://office.microsoft.com>